



UFES

**UNIVERSIDADE FEDERAL DO ESPÍRITO SANTO**  
**COMISSÃO COORDENADORA DO VESTIBULAR**  
**PROCESSO SELETIVO UFES 2014**

**GEOGRAFIA**

**1ª QUESTÃO**

**Terremoto no Paquistão**



Infográfico elaborado em 24/9/2013

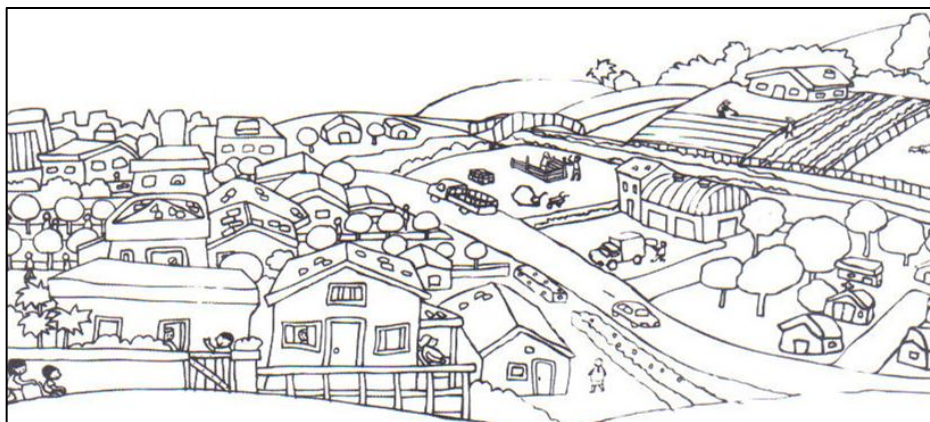
A província de Baluquistão, sudoeste do Paquistão, viveu novamente um dia de pânico, com a ocorrência de mais um terremoto, neste sábado, 28, com magnitude 6,8 na escala Richter, quatro dias depois de outro terremoto com magnitude 7,7 provocar a destruição de cerca de 21 mil edificações em Baluquistão e a morte de 359 pessoas, de acordo com as autoridades do país. Segundo o meteorologista chefe do Paquistão, outros mais poderão ocorrer nas próximas semanas.

(Disponível em: <<http://economia.uol.com.br/noticias/valor-online/2013/09/28/novo-terremoto-chacoalha-o-paquistao.htm>>. Acesso em: 11 out. 2013. Adaptado).

Riscos naturais são condições diante das quais populações se apresentam expostas a manifestações da natureza capazes de impactar as atividades humanas. Na região em que se localiza o Paquistão, ocorreram, na última década, dois grandes eventos, como o relatado na reportagem, que deixaram dezenas de milhares de vítimas fatais nesse país. Com relação aos fatos ocorridos no Paquistão, explique

- A) a recorrência de terremotos que assolam esse país;
- B) a razão da grande ocorrência de vítimas fatais relacionadas a tais eventos.


**2ª QUESTÃO**



(Disponível em: <<http://gutarocha.blogspot.com.br/2012/06/onde-aprendendo-localizacao-de-uma.html>>. Acesso em 15 out. 2013. Adaptado).

Fatores naturais, entre outros fatores, podem dificultar ou facilitar a ocupação humana em determinada área. Explique dois fatores naturais que facilitam essa ocupação.

3ª QUESTÃO

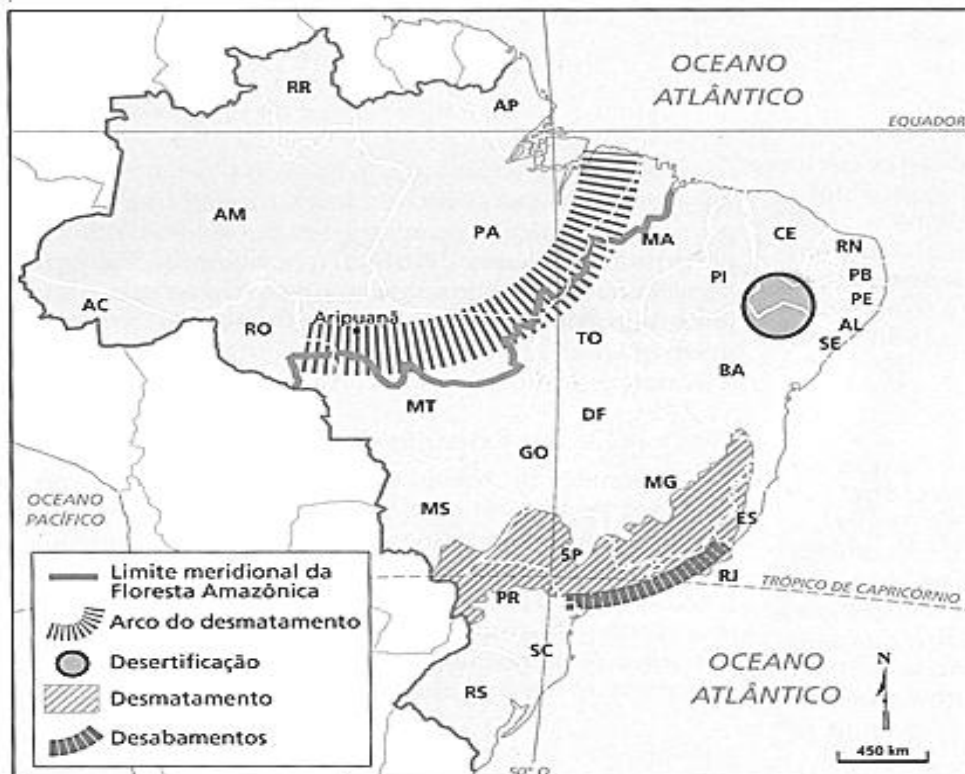


(Disponível em: <<http://geoconceicao.blogspot.com.br/2011/04/indice-de-desenvolvimento-humano.html>>. Acesso em: 15 out. 2013).

Com relação ao Índice de Desenvolvimento Humano (IDH),

- A) explique a sua origem e a sua finalidade;
- B) cite os indicadores que o compõem.

4ª QUESTÃO



(Fonte: TERRA, Lygia; ARAUJO, Regina; GUIMARÃES, Raul Borges. Conexões: estudos de Geografia Geral e do Brasil. 2. ed. São Paulo: Moderna, 2010. p. 336).

O mapa acima ilustra as ameaças ambientais no Brasil decorrentes da ocupação do solo.

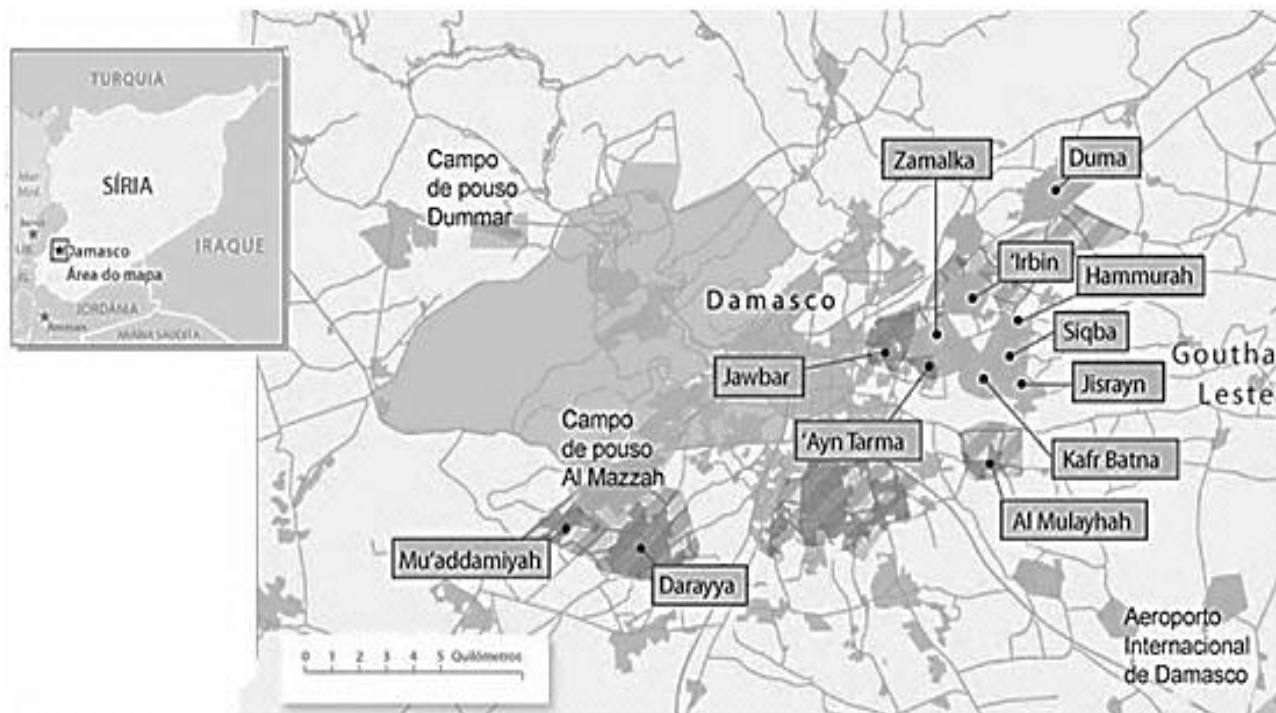
- A) Cite duas finalidades para o desflorestamento na região do "Arco do desmatamento".
- B) Sob o ponto de vista ambiental, explique dois problemas causados pelo desmatamento nas regiões representadas no mapa.



UFES

**UNIVERSIDADE FEDERAL DO ESPÍRITO SANTO**  
**COMISSÃO COORDENADORA DO VESTIBULAR**  
**PROCESSO SELETIVO UFES 2014**

**5ª QUESTÃO**



(Disponível em: <oglobo.globo.com/infograficos/siria-conflito>. Acesso em: 15 out. 2013. Adaptado).

A partir do fato ocorrido na Síria no dia 21 de agosto de 2013, esse país passou a ocupar as manchetes dos principais jornais internacionais e tem sido objeto de preocupação, de controvérsias e de repúdio por parte de dirigentes de vários países. Explique

- A) o que é guerra civil e uma de suas causas;
- B) o fato ocorrido na Síria e qual a proposta apresentada ao governo sírio visando à solução do impasse.